

38. Orientierungsfahrt - Autosportclub Osterzell - 2011

1. ETAPPE

Fahrer:	km Start:	Zeit Start:
Beifahrer:	km Ziel:	Zeit Ziel:

Streckenbezogene Fragen (!! Nicht in Reihenfolge !!)	Antwort	Fehlerpkt.
1. Ich bin des Menschen bester Freund. Hier kann ich wohnen und was lernen. Wo ist dieser Ort?		
2. Wo bin ich? (Bild 4) Ortschaft und Hausnummer.		
3. Mutter Walburga ist sehr glücklich über ein bestimmtes Ereignis. Welches?		
4. Eine Inschrift auf einem Gebäude weist auf ein Ereignis in den Jahren 1890 - 1892 hin. Welches Ereignis ist gemeint?		
5. Auf Bild 5 seht ihr einen Sportler. Wo ist dieser zu finden? Und um welche Sportart handelt es sich?		
6. UnFASSBAR die Genauigkeit der Deutschen Behörden. Sogar die einfachsten Dinge sind genau beschrieben. Worauf findet ihr Bild 6?		
7. Auf was weist Bild 8 hin? Und wo findet ihr diese Einrichtung?		
8. Welche Länder sind auf Bild 7 und 11 zu sehen?		
9. Welches Verhalten ist richtig (Bild2). A) Vor der Kreuzung warten. B) Ohne zu halten abbiegen		
10. Welches Verhalten ist richtig (siehe Bild 1). A) Ich darf als erster die Kreuzung überqueren. B) Ich muss den LKW abbiegen lassen. C) Ich muss den Radfahrer abbiegen lassen		
11. Wie heisst die nächste Ortschaft nach Bild 9 auf eurem Weg?		
12. Welche Zahlen fehlen auf Bild 10		

Sonderfrage	Antwort	Fehlerpkt
Auf der Brücke in Bild 3 misst die Höhe in cm bis zur Wasseroberfläche der Wertach. !!!!!! Nicht auf der Brücke parken (/w Verkehr)!!!!!!	_____ cm	

An der rechten Fahrbahnseite sind Schilder mit Zahlen angebracht.

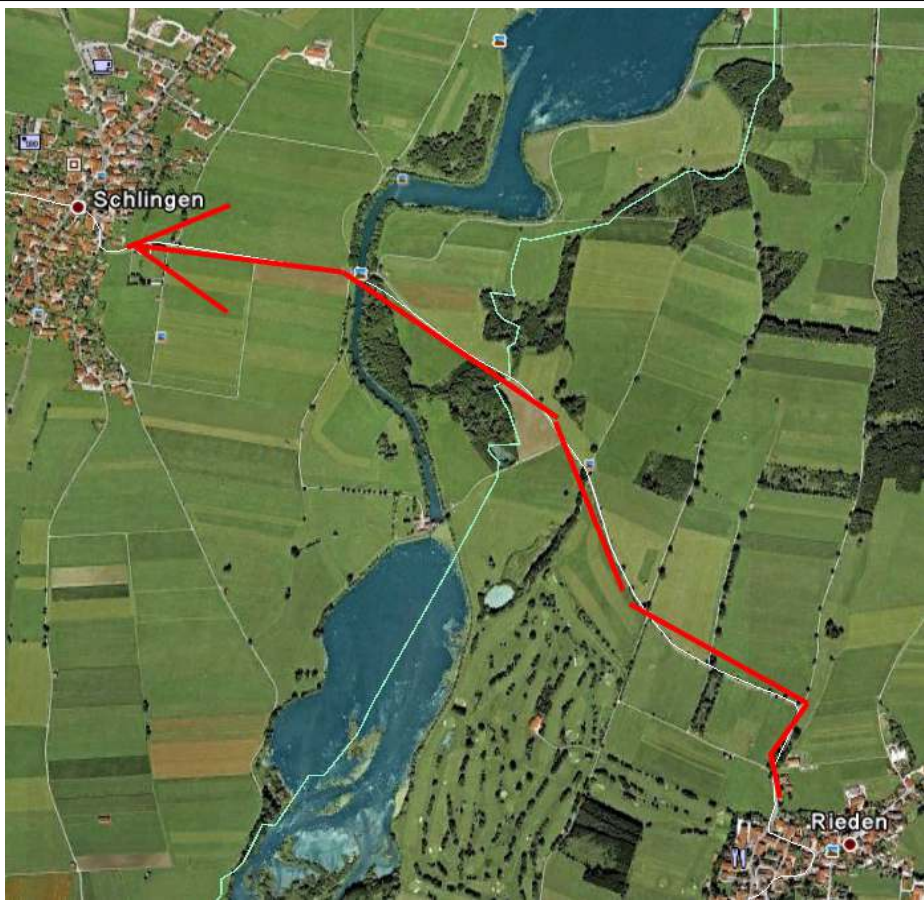
Schreibt die geraden Zahlen der Reihenfolge nach auf.

--	--	--	--	--	--	--	--	--	--	--

Streckenbeschreibung und Bilder zu Fragen - Etappe 1







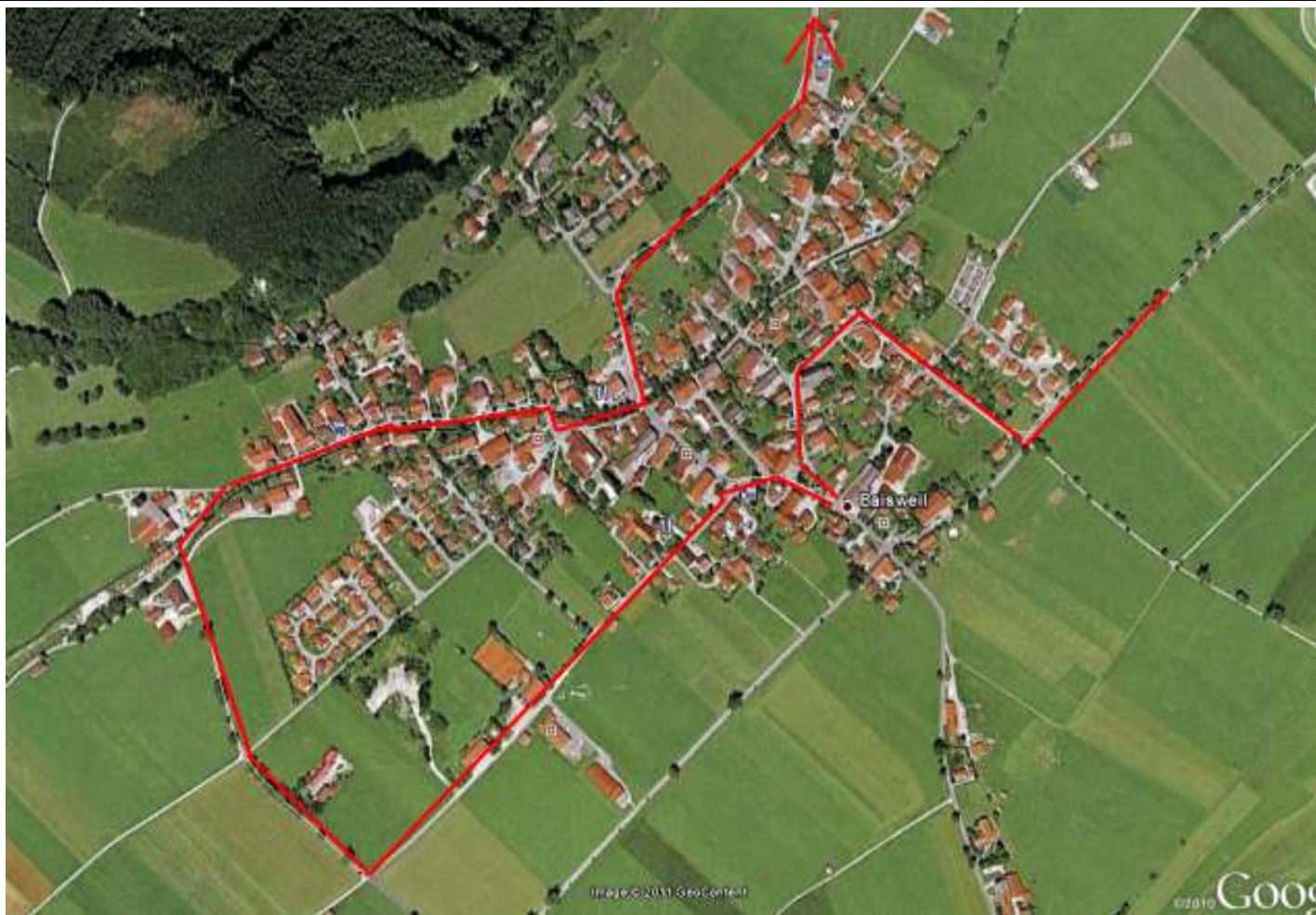


Bild 4



Bild 5



Bild 6



Bild 7



Bild 8



Bild 9



Bild 10

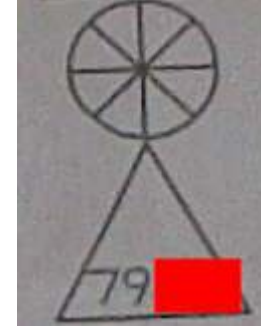


Bild 11



38. Orientierungsfahrt - Autosportclub Osterzell - 2011

2. ETAPPE

Fahrer:	km Start:	Zeit Start:
Beifahrer:	km Ziel:	Zeit Ziel:

Streckenbezogene Fragen (!! Nicht in Reihenfolge !!)	Antwort	Fehlerpkt.
1. Vier Hufeisen und acht tote Rehböcke. Und das auf engstem Raum. Wo findet man denn das?		
2. Etwa 100 m nach Bild 1 ist ein blaues Schild. Schreibt alle Buchstaben und alle Zahlen mit einer Bedeutung auf.		
3. Wo ist dieses Kreuz von Bild 2?		
4. In welcher Ortschaft findet ihr Bild 4		
5. Auf der Strecke findet ihr eine Wintersporteinrichtung. In welchem Ort beginnt diese und in welchem Ort endet diese?		
6. An welchem Gebäude findet man Bild 3?		
7. Unseren Freunden aus..... Bild 5		
8. In welcher Ortschaft findet ihr einen Hinweis auf den Subaru Fan Club?		
9. In Neuenried zu finden: „Mannheim Bopp Reuters“. Um was handelt es sich?		
10. Bild 6 befindet sich in welcher Ortschaft?		

Sonderaufgabe	Fehlerpkt
Ein Kinderlied beschreibt ein Männlein das ganz still und stumm im Walde steht. Außerdem hat es ein purpurnes Mäntelein um. Bringt ein paar dieser mysteriösen Männlein mit zum Ziel.	

An der rechten Fahrbahnseite sind Schilder mit Zahlen angebracht.

Schreibt die ungeraden Zahlen der Reihenfolge nach auf.

--	--	--	--	--	--	--	--	--	--	--

Bilder Etappe 2

Bild 1



Bild 2



Bild 3



Bild 4



Bild 5



Bild 6

