




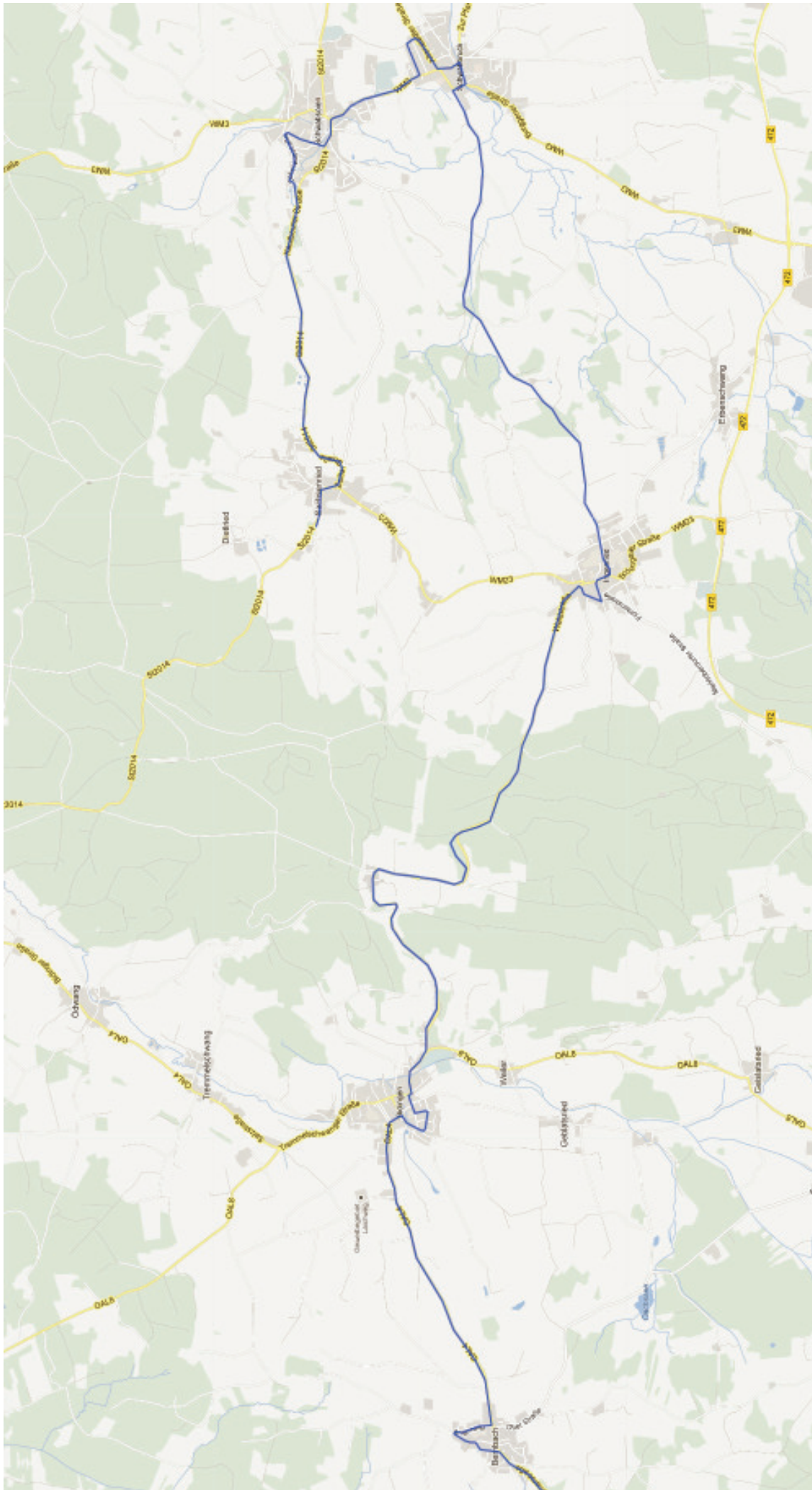


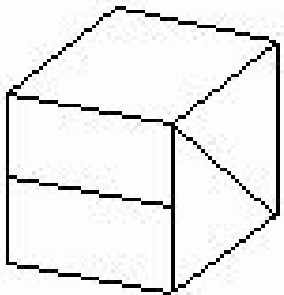
<p><b>START: Ortsschild Sachsenried</b></p> 	<p><b>Herzlich Willkommen zur ASC Orientierungsfahrt.</b></p> <ul style="list-style-type: none"> <li>- fahrt direkt zum Start in Sachsenried(km zählen ab Osterzell)</li> <li>- löst zuerst nur Etappe 1 (gelber Hintergrund). Nach dem Streckenposten (ca. 25 km nach Start) beginnt mit der Etappe 2 (blauer Hintergrund).</li> <li>- Die Fragen sind nicht in Reihenfolge auf der Strecke.</li> <li>- Schreibt die Zahlen die ihr auf der rechten Seite auf eurem Weg findet in der richtigen Reihenfolge auf.</li> </ul> <p>VIEL ERFOLG (Notfallnummer 0170 5648004 -anrufen gibt aber Fehlerpunkte)          Wollt ihr künftig ASC Infos erhalten? Wenn ja könnt ihr hier Eure Mailadresse angeben:          (freiwillig).....</p>				<p><b>Sonderaufgaben:</b></p> <p>Bis zum Ziel der Etappe 1 sind die Sonderaufgabe 1 und 2 zu erledigen.</p> <p>Sonderaufgabe 1:.....</p> <p>Sonderaufgabe 2: .....</p>	<p><b>Auswertung (bitte nicht ausfüllen):</b></p> <p>gefahren km: _____</p> <p>benötigte Zeit: _____</p> <p>Fehler km/Zeit: _____</p> <p>Fehler Etappe 1: _____</p> <p>Fehler Etappe 2: _____</p> <p><b>GESAMTFEHLER:</b> _____</p>
<p><b>Frage 1:</b></p> <p>Wann wurde das Pumpenhaus für die Wasserversorgung Sachsenried erbaut?</p> <p>Antwort: .....</p>	<p><b>Bild 1</b></p> 	<p><b>Frage 2:</b></p> <p>Station Nr. 647 C. Vor was müssen wir uns da in acht nehmen?</p> <p>Antwort:.....</p>	<p><b>Frage 1:</b></p> <p>Bei Bild 2 gibt es eine Jahreszahl der Errichtung. Welches Jahr ist das?</p> <p>Antwort:.....</p>	<p><b>Bild 2</b></p> 	<p><b>Bild 3</b></p> 	
<p><b>Frage 3:</b></p> <p>Eine Inschrift nennt uns zwei Lebensstützen. Wie heißen diese?</p> <p>Antwort:.....</p>	<p><b>Frage 4:</b></p> <p>STVRB.DERERBAREGE:ORG.M.O.SMAR.A VS.DER.LOCHLER:MILEN:GOT.GENADE.DERSEL</p> <p>In welcher Ortschaft?</p> <p>Antwort:.....</p>	<p><b>Frage 5:</b></p> <p>Reines Wasser aus dem Kreislauf der Natur. Wer arbeitet dafür?</p> <p>Antwort:.....</p>	<p><b>Frage 2:</b></p> <p>Drei Halterungen und nur zwei Trophäen. Eine ist wohl runtergefallen. Was sind das für Trophäen?</p> <p>Antwort:.....</p>	<p><b>Frage 5:</b></p> <p>Welches bayrische Kulturgut wurde von Peter Inning in S..... gespendet?</p> <p>Antwort:.....</p>	<p><b>Frage 8:</b></p> <p>Wo steht das genau?</p>  <p>Antwort:.....</p>	
<p><b>Frage 6:</b></p> <p>Auf eurem Weg findet ihr einen Hinweis welche Tiere in der Schönach leben. Welche sind das?</p> <p>Antwort:.....</p>	<p><b>Frage 7:</b></p> <p>"I dät di um Gotteslohn ums Häutle bitten".</p> <p>"Nix da Sylvest!"</p> <p>Und der ganze Spuk war verschwunden. Gemeint ist?</p> <p>Antwort: ..... von .....</p>	<p><b>Frage 8:</b></p> <p>„Patrona Bavaria“.</p> <p>Wo kann man dieses lesen?</p> <p>Antwort:.....</p>	<p><b>Frage 3:</b></p> <p>Natürlich dürfen auch dieses Jahr keine Wandbilder fehlen. In welcher Ortschaft findet ihr Bild 3. Ach ja. Und schreibt auch noch die Hausnummer auf.</p> <p>Antwort:.....</p>	<p><b>Frage 6:</b></p> <p>Rodung 780.</p> <p>Für was?</p> <p>Antwort:.....</p>	<p><b>Frage 9:</b></p> <p>In welcher Straße steht diese Figur?</p>  <p>Antwort:.....</p>	
<p><b>Frage 9:</b></p> <p>Was wäre eine Orientierungsfahrt ohne Wegkreuz. Kreuz von Bild 1 steht innerhalb einer Ortschaft auf eurem Weg. Hinweis: Die Christusfigur ist aus Metall. Schreibt uns den Namen der Ortschaft des Startes auf.</p> <p>Antwort:.....</p>	<p><b>Frage 10:</b></p> <p>Sechs Mädchen und zwei Jungs unter einem Regenbogen. Wo könnt ihr das sehen?</p> <p>Antwort:.....</p>	<p><b>Frage 11:</b></p> <p>An einem historischen Gebäude findet ihr eine Grenztafel.</p> <p>Von wann stammt diese?</p> <p>Antwort:.....</p>	<p><b>Frage 4:</b></p> <p>Ein bisschen verrückt ist völlig normal. Wer hat sich dieses Motto auf die Fahne geschrieben?</p> <p>Antwort:.....</p>	<p><b>Frage 7:</b></p> <p>Wie weit ist es von hier aus zum Ziel?</p>  <p>Antwort:.....</p>	<p><b>Frage 10:</b></p> <p>Was befindet sich unterhalb am Boden?</p>  <p>Antwort:.....</p>	



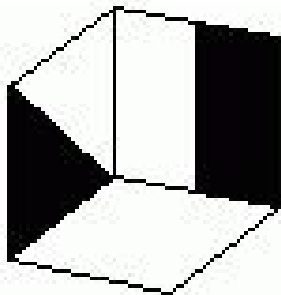


# Sonderaufgabe 1:

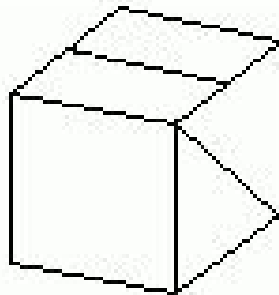
Welche dreidimensionale Figur ergibt die zweidimensionale Vorlage?



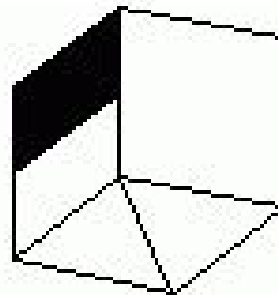
**a**



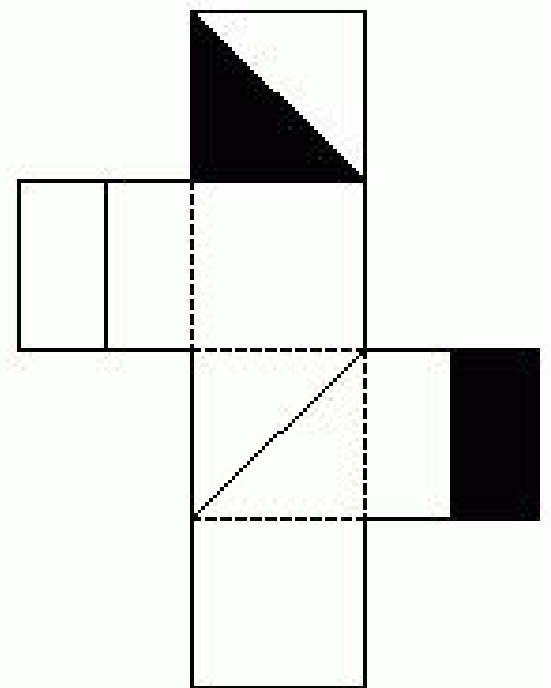
**b**



**c**






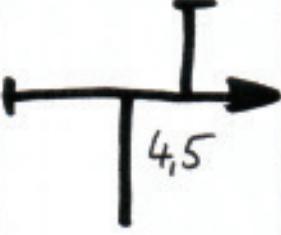

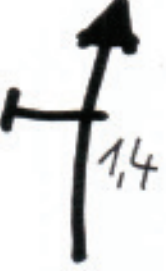
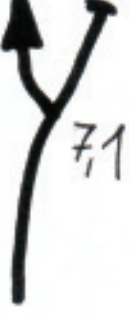


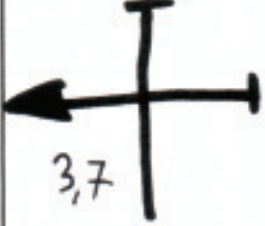



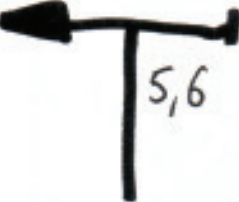



**d**





Strecke 2. Etappe

⚠ nicht in Reihenfolge

 <p><b>START</b></p>		<p>Li... Str.</p> 		
				
				
				

Die Angaben sind in Kilometer!

VIEL ERFOLG